





Name: _____



Practice Rounding to the Nearest 10

Directions: Round each number to the nearest 10.

Ex. $22 \rightarrow 20$ Ex. $47 \rightarrow 50$

0 1 2 3 4    5 6 7 8 9

Round Down Round Up

Rounding Numbers

1.) $42 \rightarrow$ _____

9.) $12 \rightarrow$ _____

2.) $77 \rightarrow$ _____

10.) $18 \rightarrow$ _____

3.) $53 \rightarrow$ _____

11.) $94 \rightarrow$ _____

4.) $64 \rightarrow$ _____

12.) $15 \rightarrow$ _____

5.) $16 \rightarrow$ _____

13.) $27 \rightarrow$ _____

6.) $78 \rightarrow$ _____

14.) $63 \rightarrow$ _____

7.) $6 \rightarrow$ _____

15.) $28 \rightarrow$ _____

8.) $45 \rightarrow$ _____

16.) $97 \rightarrow$ _____

ANSWER KEY

1.) **42** → **40**

2.) **77** → **80**

3.) **53** → **50**

4.) **64** → **60**

5.) **16** → **20**

6.) **78** → **80**

7.) **6** → **10**

8.) **45** → **50**

9.) **12** → **10**

10.) **18** → **20**

11.) **94** → **90**

12.) **15** → **20**

13.) **27** → **30**

14.) **63** → **60**

15.) **28** → **30**

16.) **97** → **100**